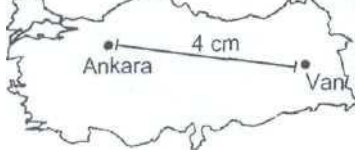


- 1_ Bir haritanın ölçeği büyütülürse,
I. Gösterilen alan genişler
II. Ayrıntı artar
III. Bozulma oranı azalır.
Yargılarından hangisi yada hangileri doğru olur?

- A) Yalnız I B) Yalnız II C) Yalnız III D) I ve II E) II ve III

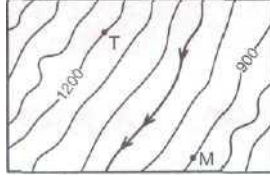


Gerçekte Ankara - Van arası yaklaşık 1200 km olduğuna göre, yukarıdaki haritanın ölçeği aşağıdakilerden hangisidir?

- A) 1/3,000,000 B) 1/4,800,000 C) 1 / 6,000,000
D) 1 / 30,000,000 E) 1/12,000,000

- 3_ Aşağıdakilerden hangisini, ülkemizin özel koşullarının belirlediği söylenebilir?
A) Güney yönlü cephelerin bakı etkisinde olmasını
B) İzdüşüm ve gerçek alanları arasındaki farkın çok olmasını
C) En uzun gündüzün 21 Haziran'da yaşanmasını
D) Öğle vakti cisimlerin gölgesinin kuzey yönlü olmasını,
E) 21 Aralık'ta kış mevsimine girilmesini,

4_



Yukarıdaki İzohips haritasında verilen M noktasında yükselti 900 m, T noktasında ise 1200 m dir. Buna göre, haritada verilen akarsu vadisi hangi yükseltiler arasında yer alır?
A) 0 – 300 B) 300 – 600 C) 600 – 900
D) 900 – 1200 E) 1200 – 1400

- 5_ Haritalarda yer şekillerinin gösterilmesi için bazı yöntemler kullanılır.
Aşağıdakilerden hangisi bu yöntemlerden biri değildir?
A) Gölgeleme
B) Tarama
C) İzohips
D) İzoterm
E) Kabartma

- 6_ Küçük ölçekli haritalarda ayrıntının az olması, aşağıdakilerden hangisiyle açıklanabilir?
A) Çizim yöntemiyle
B) Küçültme oranının fazla olmasıyla
C) Yer şekillerinin engebeli olmasıyla
D) Dünyanın şekliyle
E) Kuşbakışı olarak çizilmesiyle

7_ 81 km² alan kaplayan bir ova 1/300.000 ölçekli haritada kaç cm² ile gösterilir?

- A) 3 B) 9 C) 18 D) 27 E) 30

- 8_ - Her mevsimi yağışlı
- Güneşli gün sayısı az
- Kışları ılık

Yukarıda özellikleri verilen yöre, aşağıdaki ürünlerden hangisinin tarımı için elverişsizdir?

- A) Mısır B) Çay C) Fındık D) Pamuk E) Kahve

9_ Bir limanın gerisindeki bölge (ard ülke) ile ulaşımının kolay olup olmaması, yer şekillerinin uzanışı ile yakından ilgilidir ve ulaşımın kolay olması limanın gelişimini kolaylaştırır.

Buna göre, aşağıdaki limanlardan hangisinin ard ülkesi ile demiryolu bağlantısı yoktur?

- A) İstanbul B) İzmir C) Samsun
D) Antalya E) Bandırma

10_ Sanayinin gelişmiş olduğu yerlerde elektrik enerjisi tüketimi fazladır. **Buna göre aşağıdaki bölümlerden hangisinde elektrik enerjisine en az ihtiyaç duyulması beklenir?**

- A) Ege B) Çatalca-Kocaeli C) Yukarı Murat-Van
D) Adana E) Batı Karadeniz

11_ Aşağıdakilerden hangisi veya hangileri Ege Bölgesi'ndeki delta ovalarının ortak özelliğidir?

- I. Nüfus yoğunluğunun fazla olması
II. Endüstri bitkilerinin daha fazla yetiştirilmesi
III. Kıyılarında büyük göllerin bulunması

- A) Yalnız II B) Yalnız I C) Yalnız
D) I ve II E) II ve III

12_ GAP'ın faaliyete geçmesiyle aşağıdaki kaynaklardan hangisinin elektrik enerjisi üretimindeki payı artışı gösterir?

- A) Nükleer enerji B) Hidroelektrik enerji
C) Termik enerji D) Jeotermal enerji
E) Güneş enerjisi

13_ Aşağıdaki yerlerin hangisinde;

- I. Keten, kenevir
II. Sarımsak
III. Pirinç
Ürünleri yoğun olarak yetiştirilmektedir?

- A) Çatalca- Kocaeli
B) Batı Karadeniz
C) Antalya
D) Kıyı Ege
E) Konya

14_1 Aşağıdakilerden hangisi teknolojinin insana verdiği zararlardan biri **değildir?**

- A) Çevre sorunları
B) İşsizlik
C) Hayat standardının yükselmesi
D) Doğal kaynakların azalması
E) Sosyal sorunlar

15_ Aşağıda bazı tarihi eserlerimiz ile bu eserlerin bulunduğu şehirler eşleştirilmiştir. Bu eşleştirmelerden hangisi **yanlıştır**?

- A) Sümela manastırı-Trabzon
- B) Topkapı sarayı-İstanbul
- C) İshakpaşa sarayı-Ağrı
- D) Nemrut heykelleri-Gaziantep
- E) Efes Antik kenti-İzmir

16_ Aşağıdaki ülkelerden hangisi İtalya'ya denizyolu ile ihracat yapmak için İstanbul ve Çanakkale Boğazlarını kullanmak zorunda **değildir**?

- A) Mısır
- B) Bulgaristan
- C) Ukrayna
- D) Romanya
- E) Gürcistan

17_

Günümüzde dünya nüfusunun yaklaşık yarısının şehirlerde yaşamasının **temel nedeni** aşağıdakilerin hangisinde verilmiştir?

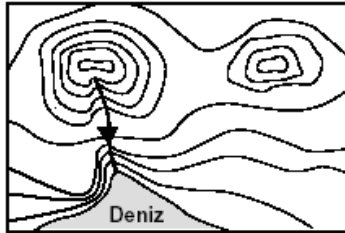
- A) Tarımsal faaliyetlerin gelişmesi
- B) Sanayi faaliyetlerinin gelişmesi
- C) Hayvancılık faaliyetlerinin gelişmesi
- D) Turizm faaliyetlerinin gelişmesi
- E) Madencilik faaliyetlerinin gelişmesi

18_

Aşağıdakilerden hangisi Sanayi Devriminin doğurduğu sosyo-ekonomik sonuçlardan birisi değildir?

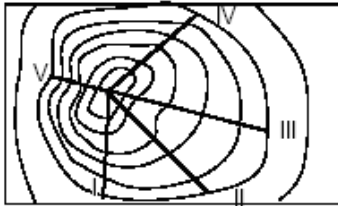
- A) Yeni iş sahalarının açılmıştır.
- B) İnsan gücüne duyulan ihtiyaç artmıştır.
- C) Sanayi bölgelerine doğru yapılan göçler artmıştır.
- D) İnsan ilişkileri daha karmaşık bir hal almıştır.
- E) Şehirleşme olayı hızlanmıştır.

19_



Yukarıdaki izohips haritasında aşağıdaki yer şekillerinden hangisi yoktur?

- A) Tepe B) Boyun C) Vadi D) Delta E) Falez



20_

Yukarıdaki izohips haritasında gösterilen tepeye kaç numaralı yamaçtan tırmanmak **en zordur**?

- A) I B) II C) III D) IV E) V

21_ Ankara - İstanbul arası mesafe 1/1,500,000 ölçekli bir haritada 30 cm gelmektedir. Başka bir haritada iki şehir arası 10 cm geldiğine göre, ikinci haritanın ölçeği aşağıdakilerden hangisidir?

- A) 1 / 500,000 B) 1 / 2,500,000
- C) 1 / 4,500,000 D) 1 / 5,000,000
- E) 1/6,000,000

22_ - izohipslerin birbirinden uzaklaştığı yerlerle ilgili;

- I. Yükseklik farkı artar
 - II. Akarsuların akış hızı azalır
 - III. Eğim azalır
- İfadelerinden hangisi doğrudur?

- A) Yalnız I B) Yalnız II C) Yalnız III
- D) I ve II E) II ve III

23_ Aynı bölgeyi gösteren ve ölçekleri farklı olan haritalardan biri fiziki harita, diğeri idari dağılış haritasıdır. Bu iki haritada;

- I. Çizim amacı
 - II. Ayrıntıyı gösterme gücü
 - III. Coğrafi koordinatlar
- hangisi farklıdır?

- A) Yalnız I B) Yalnız II C) Yalnız III D) I ve II E) II ve III

24_ Aynı boyuttaki kağıtlara kağıdın tamamını kullanarak çizilen aşağıdaki yerlere ait haritalardan hangisinin ölçeği eji_bjyjktü£?

- A) Avrupa B) Türkiye C) İç Anadolu
- D) Marmara E) Beyşehir Gölü

25_ Ay'ın ve Güneş'in çekim gücüne bağlı olarak yeryüzündeki suların yükselip-alçalması olayına gelgit denir. Aşağıdakilerden hangisi Türkiye kıyılarında bu olayın etkili olmadığı bir kanıttır?

- A- Kıyıların sığ olması
- B- Kıyılarımızda koy, körfez sayısının fazla olması
- C- Kıyılarımızda falezlerin bulunması
- D- Kıyılarımızda delta ovalarının bulunması
- E- Doğal limanların fazla olması